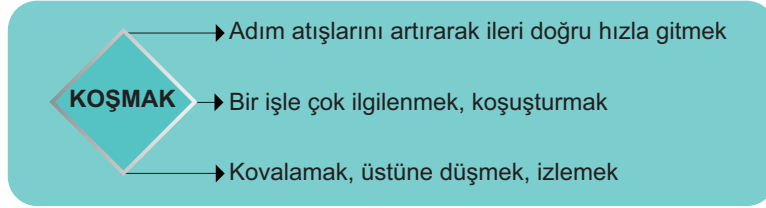


## TÜRKÇE

1. Bu testte 15 soru vardır.
2. Cevaplarınızı, cevap kağıdına işaretleyiniz.

1.



**Buna göre "koşmak" sözcüğü aşağıdaki cümlelerin hangisinde bu anlamlardan biriyle kullanılmamıştır?**

- A) Uzun bir süredir bu işin peşinden koşuyorum.
- B) Her hafta bu iş için oradan oraya koşuyoruz.
- C) Akşamları normal tempoda sekiz kilometre koşarım.
- D) Bu İngiliz atı 1.200 metreyi nasıl koşacak?

2.

Sanat eğitim aracı olarak insanların hayatında yer alabilir. Bu da ahlak, maneviyat, dünya görüşü gibi değerlerin sanatla yoğrulması ve sanata değer katması anlamına gelebilir. Sanatın bir olgu olarak dogmatik(\*) olması söz konusu olamadığından kişilerin özünün ifade edilişi ve içinde bulunduğu toplumun aynasını oluşturması da eleştirilemez.

(\*) *Belli bir konuda ileri sürülen bir görüşün sorgulanamaz, tartışılmaz bir gerçek olarak kabul edilmesi*

**Bu metinde aşağıdaki konulardan hangisinin üzerinde durulmuştur?**

- A) Ahlakî gelişimde sanatın önemi
- B) Sanatın herkes tarafından farklı yorumlanması
- C) Kişilerin gelişimlerinde sanatın vasıta görevi görmesi
- D) Sanatın toplumu yansıtmasının eleştirilmesi

3. Hoca bir gün damdan düşünce etrafına kalabalık toplanır. Doktor çağırın birini eliyle susturup "Bana doktor değil, damdan düşen birini getirin." der. "Çünkü damdan düşen, damdan düşenin hâlini bilir."

**Aşağıdakilerden hangisi bu metindeki altı çizili atasözünün anlamıdır?**

- A) İyi bir durumdayken kötü bir duruma düşen kimse, başına aynı durum gelen birinin derdini anlar.
- B) Bir acıyı onu çekenenden başkası tam anlayamaz veya aynı ölçüde üzülemez.
- C) Bir kişi hakkında yorum yapmadan önce ön yargılı olmamak ve görünüşe aldanmamak gerekir.
- D) Bir kimsenin neler yaşadığını bilmeden onunla ilgili yorumlar yapılmamalıdır.

4.

Klasik resim yönteminde ıslak boya üzerine başka bir boya yapışmayacaktır. - - - ilk sürdürdüğünüz boya katmanının kuruması gerekir. Kuruma işlemi havaya göre değişebilir. Belki bir gün, belki üç günde kuruyacaktır - - - size şunu söyleyebilirim ki orta dereceli bir manzara tablosu oluşturmanız yaklaşık 3 – 4 gün gününüzü alabilir. Islak boya tekniğinde - - - bu süre bu kadar olmaz. Bob Ross'u hatırlayın, 30 dakikada manzara resmini tamamlıyordu.

**Bu parçada boş bırakılan yere düşüncenin akışına göre sırasıyla aşağıdakilerden hangisi getirilmelidir?**

A) çünkü – fakat – ise

B) öncelikle – ama – ise

C) sonunda – ayrıca – ki

D) başka bir deyişle – kısacası – ve

5.

Ön yargı bir kişi, durum veya olay hakkında kişisel izlenimlerden hareketle önceden edinilmiş olumlu veya olumsuz yargılardır. Sevgili Öğrenciler, şimdi herkesin ön yargıya birer örnek vermesini istiyorum.



**Yaşar** : Hidayet Usta bu arabayı tamir edemez, Kemal Usta'ya gidelim.

**Osman** : Gece gündüz demeden çalışsa da bu projede başarılı olamayacak.

**Sevim** : Beşiktaş bu sene kesin şampiyon olacak.

**Şaziye** : Sayılara bakılırsa Cem Yılmaz'ın gösterisi yine en çok izlenenler arasında yerini alabilir.

**Buna göre, öğrencilerden hangisinin konuyu iyi anlayamadığı söylenebilir?**

A) Yaşar

B) Osman

C) Sevim

D) Şaziye

6.

## Türkiye'nin destinasyon odaklı ilk bölgesel turizm markası "Mezopotamya" tanıtıldı.

"GAP Bölgesi Turizm Tanıtım ve Markalaşma Projesi", "Mezopotamya" adıyla küresel bir kimliğe dönüştü.

# MEZOPOTAMYA

DESTANSI TOPRAKLAR

Yerleşik hayatın ve uygarlığın ortaya çıktığı bölge, **dünyanın birçok ilki ve enine ev sahipliği yapıyor.**

Bölgedeki 9 ilin kültürel değerlerinin yansıtıldığı bir logo hazırlanarak Mezopotamya'nın bir bölge olmaktan çok **bir marka olarak konumlandırılması amaçlandı.**



Bölgedeki illerin bütüncül bir yaklaşımla markalaştırılarak **sürdürülebilir bir turizm destinasyonu** oluşturulması hedefleniyor.



Bölgenin zengin kültürel mirasının turizme kazandırılması ve **bölgesel kalkınmanın sağlanması amaçlanıyor.**

**PROJE  
9 GAP  
İLİNİ KAPSIYOR**



**BÖLGEDEKİ BAZI ÖNEMLİ TURİZM DESTİNASYONLARI**

- Hasankeyf
- Halfeti
- Midyat
- Çermik kaplıcaları
- Eğil
- Zeugma
- Balıklıgöl
- Viranşehir
- Göbeklitepe
- Nemrut

• **Destinasyon:** Bir işin, yerin en önemli noktası; varılacak yer

**Verilen görselden yola çıkarak,**

- Mezopotamya tarihsel süreçte Türklerin yerleşik hayata geçtiği ilk yerdir.
- Bu proje ulusal değil, bölgesel bir projedir.
- Bölgenin kalkınmasında kültürel mirasın turizme kazandırılması amaçlanmıştır.
- Bu proje dokuz ilin yanı sıra başka doğu illerini de kapsamaktadır.

**Yargılarından hangilerine ulaşamaz?**

- A) I ve II.                      B) II ve III.                      C) III ve IV.                      D) I ve IV.

7. “Bir Kelime Bir İşlem” adlı yarışma programı 27 yıldır TV’de yayımlanan zekâ ve bilgi tabanlı yarışma programıdır. Yarışmada yarışmacılara bir kelime, bir de işlem sorusu sorulmaktadır. Kelime sorusunda yarışmacılara 8 harf verilmekte, yarışmacılar da bu harfleri ve bir de joker harfi kullanarak kelime türetmeye çalışmaktadır. Joker harf, verilen 8 harfin içinde olmayan harf yerine bir kere kullanılabilir. Örneğin: “F – T – E – R – D” harflerinden 6 harfli “DEFTER” kelimesi oluşturabilir. Verilen harflerde bir tane “E” harfi vardır. İkinci “E” harfi ise joker harftir. En fazla harfli kelimeyi bulan yarışmacı harf sayısı kadar puan kazanmaktadır.

Bilge adlı yarışmacı son soruya gelmiştir ve son soru bir kelime sorusudur. Bir kelime sorusunda karışık şekilde verilen 8 harf ve joker harf şunlardır:



**Buna göre, Bilge adlı yarışmacının oluşturduğu kelime aşağıdakilerden hangisidir?**

- A) BENZERLİK                                      B) BENZİNLİK  
C) BENZERSİZ                                     D) BEZGİNLİK

8. Sosyal medya reklamcılığı için bazı sosyal medya uygulamalarının belirli şartları vardır ve kullanıcılar bu şartları sağlarsa reklam alabilirler.

Aşağıda bazı sosyal medya uygulamalarının reklam alma şartlarının yer aldığı bir tablo verilmiştir.

Sosyal Medya Uygulamaları	Takipçi Sayısı (en az)	Gönderi Sayısı (en az)	Beğeni Sayısı (ortalama)	İzlenme Sayısı (ortalama)	Yorum sayısı (ortalama)	Paylaşılma Sayısı (ortalama)
K	9 bin	200	7 bin	10 bin	100	50
L	10 bin	250	8 bin	15 bin	250	150
M	5 bin	100	4 bin	10 bin	150	25
N	20 bin	500	10 bin	50 bin	1000	500

**Not:** Kullanıcılar, bu şartların en az birini bile sağlamıyorsa reklam alamaz.

Bir kullanıcının reklam aldığı bir uygulamada takipçi sayısı 23.678’dir. Sayfasında 376 fotoğraf ve video paylaşmıştır. Her paylaşımı 5.000’in üzerinde beğeni almaktadır. Gönderilerine yapılan yorumlar ise ortalama olarak 900 civarındadır. Videolarının izlenme sayıları ise ortalama 10 bindir ve bu videolarını ortalama 50 kişi başkalarıyla paylaşmaktadır.

**Buna göre, bu kullanıcı hangi sosyal medya uygulamasında reklam almaktadır?**

- A) K    B) L    C) M    D) N

9.



**Aşağıda verilen metinlerin hangisinde hikâye unsurlarının tamamı kullanılmıştır?**

- A) Kuzenlerle birlikte köye gittik. Köyümüz yüksek dağlarla çevrili, ortasından buz gibi suyu akan bir dere geçmektedir. Kuzenlerimden biri, dereye yaklaştı ve suya eğildi. Kendi yansımasını görünce gülmeye başladı.
- B) Ömer sırtına ceketini geçirip hızla aşağı indi ve bir taksi durdurup şirkete geçti. Şirkette çok önemli bir toplantı vardı. Genel müdür konuşmasını yapıyor, herkes dikkatlice dinliyordu. Ömer geç kalınca özür dileyip toplantıya dâhil oldu.
- C) Beyaz örtü ovanın her yerini kaplamıştı. Çiftçiler montlarıyla tarlalarının durumlarını inceliyordu. İçlerinden biri ellerinin arasına başını almış ve üzgün üzgün çömeliyordu. Ne olduğunu anlamak için yanına gittiler.
- D) Serkan aevli, kırmızı şortunu giymiş; su parkının en yüksek kaydırağına gitmişti. Okullar kapanmış, yaz tatilini geçirmek için Didim'e gitmişti. Kaydırağın tepesine çıkıp kendini maceranın içine bıraktı.

10. Bir reklamcılık şirketi bünyesine alacağı çalışanlar için sözlü ve yazılı görüşme yapmaktadır. Sözlü sınavı geçenler yazılı mülakata kalmaktadır. Yazılı mülakatta kişilerin imzalarına dikkat edilmektedir. Bazı imzalar şu şekildedir:

**El yazısı şeklinde imza** : Bu imza şeklinde kişinin adı ve soyadı el yazısı şeklinde yazılır.

**Keskin ve oval imza** : Bu imza şekli adın ya da soyadın bir ya da birden fazla harfinin kuyrukları yuvarlak yapılır ve uzatılır.

**Baş harf imza** : Bu imza şeklinde ise adın baş harfi büyük ve belirgin yapılır. Gerisi ise ona uygun şekilde nabız atış çizgileri gibi gider.

**Buna göre aşağıdakilerden hangisi bilgileri verilen imzalardan biri olamaz?**

A)

B)

C)

D)

11. İnsana ait özelliklerin insan dışındaki varlıklara aktarılmasına kişileştirme denir.

Buna göre,

Ay suda bestelerken en güzel şarkısını  
Küreklerim de suya en derin şiiri yazdı

dizelerinde kişileştirilen varlıklar aşağıdakilerden hangisidir?

- A) su – şiir                      B) kürek – su                      C) ay – kürek                      D) şiir – kürek


- 12.

Moskova, Avrupa'nın İstanbul'dan sonra en kalabalık şehri ve aynı zamanda Avrupa'nın en kalabalık başkentidir.

Bu cümleden aşağıdakilerden hangisi kesin olarak çıkarılır?

- A) Moskova Rusya'nın başkentidir.  
B) Avrupa'nın en kalabalık şehri Moskova'dır.  
C) İstanbul'dan daha kalabalık başkent olan şehirler vardır.  
D) Avrupa'da İstanbul'dan daha kalabalık bir şehir yoktur.

- 13.



Görselde vurgulanmak istenen düşünce aşağıdakilerden hangisidir?

- A) Her şeyi bilen çok okuyandır.  
B) Okudukça olaylara geniş açıdan bakarsın.  
C) Ne kadar okursan o kadar başarılı olursun.  
D) Seni başarıya ulaştıracak şey kitaplardır.

14.

Kural: Sonunda 3. teklik kişi iyelik eki olan özel ada, bu ek dışında başka bir iyelik eki getirildiğinde kesme işareti konmaz. Örnek: "Kuşadası" sözcüğüne 1. çokluk eki "-mız" getirirsek "Kuşadamız" olur. Yani kesme işareti konmaz.

**Buna göre, aşağıdakilerin hangisinde bu kurala uyulmadığı için yazım yanlışı yapılmıştır?**

- A) 29 Ekim Cumhuriyet Bayramı'mız kutlu olsun.  
B) Bazı mağazalar Öğretmenler Günü'nde özel indirimler yapmaktadır.  
C) Bafra Ovamız, tarımsal üretimde Karadeniz'in öncüsüdür.  
D) Güzel Türkiye'miz, bu zor zamanları da kısa sürede atlatacaktır.

15. Basketbolda pas, topun bir oyuncu tarafından çeşitli şekillerde tek veya çift el kullanarak aktarması hareketidir. Paslaşma değişik şekillerde yapılmaktadır. Aşağıda basketbolda bazı paslaşma hareketleri verilmiştir.

**Göğüs Pas** : Basketbolda en çok tercih edilen pas türüdür. Bu pas atılırken baş yukarıda ve dizler hafif bükülü durumdadır. Top göğüs hizasında ve top elden çıkarılırken kollar mümkün olduğunca gergin olmalıdır.

**Yerden Pas** : Bu pas türü genellikle size yakın savunma yapıldığında topun yere vurularak rakip oyuncunun kolları altından takım arkadaşınıza atılmasıdır.

**Tek El ile Pas** : Bu pas türü genellikle savunma oyuncularının ve top kesicilerinin üzerinden atılan pas türüdür. Hangi el kullanılıyorsa o yönde top kulak arkası hizasına ve başa yakın bir yerden atılır.

**Aşağıdaki görsellerden hangisi bilgileri verilen pas türlerinden birine ait değildir?**

A)



B)



C)



D)



## SOSYAL BİLGİLER

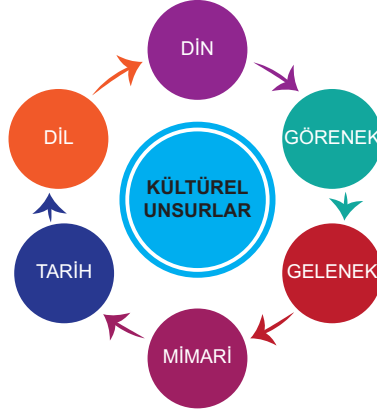
1. Bu testte 10 soru vardır.
2. Cevaplarınızı, cevap kağıdına işaretleyiniz.

1. Bireyler sosyal yaşamda sahip oldukları rollerin bazılarını doğumla birlikte kazanırken, bazı rollerini ise kendi istek çalışma ve gayretleri ile elde etmektedir.

Verilen bu bilgiden hareketle aşağıdaki rollerden hangisi farklı bir grupta yer alır?

- A) Öğretmenlik      B) Kuzenlik      C) Evlatlık      D) Vatandaşlık

2.



Verilen şemadan hareketle ulaşılabilecek en genel yargı aşağıdakilerden hangisidir?

- A) Kültürel unsurların oluşumunu etkileyen farklı unsurlar vardır.  
 B) Kültür kavramı farklı unsurların bileşiminden oluşur.  
 C) Türk kültürü değişim ile birlikte süreklilik göstermiştir.  
 D) Kültürel unsurların oluşumu uzun bir süre alır.

3. Türk İslam devletlerinin geleneksel şehir dokuları incelendiğinde dikkat çeken en önemli detaylardan biri şehrin farklı bölgelerine yerleştirilmiş olan sadaka taşlarıdır. Özellikle cami avlularının içine ya da yakınına yapılan bu sadaka taşları gelir eşitsizliğinin ortadan kaldırılması ve insanların ihtiyaçlarının giderilmesi noktasında son derece işlevseldir. Gelir durumu iyi olan vatandaşların bu taşlara bıraktıkları paralar, ihtiyaç sahipleri tarafından alanırdı. Böylece veren el, alan eli görmezdi.

Buna göre;

- I. Türk İslam kültüründe yardımlaşma ve dayanışmaya önem verilmiştir.
- II. Yardımların fark edilmeden yapılması amaçlanmıştır.
- III. Din kültürel unsurların şekillenmesinde etkilidir.

yargılarından hangilerine ulaşılabilir?

- A) I ve II      B) I ve III      C) II ve III      D) I, II ve III



4. • Ali'nin kadınların iyi araba kullanmadığını düşünmesi  
• Beyza'nın Suriyeli sınıf arkadaşı ile iletişime geçmek istememesi  
• Enes'in tüm Yahudilerin acımasız olduğunu düşünmesi

**Verilen durumlar aşağıdaki kavramlar ile eşleştirildiğinde hangisi dışarıda kalır?**

- A) Cinsiyete karşı ön yargı  
B) Sosyoekonomik duruma karşı ön yargı  
C) Milliyete karşı ön yargı  
D) Dine karşı ön yargı

5.

Kötü havalarda insan dosta aç olur.  
Bir araya gelse dost dosta ilaç olur.  
Bahçede tek gül bir şeye benzemez.  
Öbek öbek olduğunda bahara kaç olur.

Mevlana Celaleddin-i Rumî

**Mevlana'nın bu dörtlüğü;**

- I. Beraberlik, II. Özveri, III. Çalışkanlık

**kavramlarından hangileri ile ilişkilendirilebilir?**

- A) Yalnız I B) I ve II C) I ve III D) II ve III

6.

T.C. Anayasası 74. Madde: "Vatandaşlar ve karşılıklılık esasını gözetilmek kaydıyla Türkiye'de ikamet eden yabancılar kendileriyle veya kamu ile ilgili dilek ve şikâyetleri hakkında, yetkili makamlara ve Türkiye Büyük Millet Meclisine yazılı (dilekçe) ile başvurma hakkına sahiptir."

**Anayasamızın verilen maddesinden hareketle aşağıdaki yargılardan hangisine ulaşılabilir?**

- A) Temel haklar yasaları ile güvence altına alınmıştır.  
B) Dilekçe yazma vatandaşlara verilmiş bir haktır.  
C) Dilek ve şikâyetler sadece dilekçe yoluyla iletilir.  
D) Kamu ile ilgili dilek ve şikâyetler farklı kurumlara iletilir.

7. Sosyal yaşamda bireylerin sahip olduğu her rol beraberinde bir takım görev ve sorumluluklar getirir. Bu görev ve sorumluluklar ise bireylerden bir takım toplumsal beklentilerin oluşmasına neden olur.

**Buna göre;**

- I. Polislerden güvenliği sağlaması beklenir.  
II. Doktorlardan hastaları iyileştirmesi beklenir.  
III. Öğrencilerden sevgi ve saygı ile davranması beklenir.

**yargılarından hangisi metinde altı çizili bölüm için doğru örneklerdir?**

- A) I ve II B) I ve III C) II ve III D) I, II ve III

8. Türklerin tarih sahnesinde ilk görüldükleri yer Orta Asya'dır.

Orta Asya'nın genel özellikleri şunlardır:

- İklim şartları son derece serttir.
- Yazları sıcak ve kurak kışları soğuktur.
- Geniş bozkırlarla kaplı alanlar bulunur.
- Ortalama yükseltisi fazladır.

**Bölgenin bu özelliklerinin Türklerin yaşamı üzerindeki etkileri ile ilgili olarak;**

- I. Göçebe yaşamın tercih edilmesinde etkili olmuştur.
- II. Hayvancılık ile uğraşılmasına ortam hazırlamıştır.
- III. Zorlu doğal yaşamla mücadeleyi öğretmiştir.

**yargılarından hangileri doğrudur?**

- A) I ve II                      B) I ve III                      C) II ve III                      D) I, II ve III

- 9.

Kök Türk Hakani İşbara, 585'te Çin İmparatoru'nun kendi hâkimiyetine girmesi konusunda yaptığı taleplere mektubunda şu şekilde cevap vermiştir. "Size bağlı kalacak, haraç verecek, kıymetli atlar hediye edeceğim. Fakat dilimizi değiştiremem, dalgalanan saçlarınızı sizinkine benzetemem, halkıma Çin elbisesi giydiremem, Çin âdetlerini alamam, imkân yoktur, çünkü bu bakımdan milletim fevkaleda hassastır, âdeta çarpan tek bir kalp gibidir."

İbrahim Kafesoğlu,  
Türk Millî Kültürü s.106 (Düzenlenmiştir.)

**Buna göre;**

- I. Milliyetçi bir tavır sergilenmiştir.
- II. Kök Türkler, Çinliler tarafından yıkılmıştır.
- III. Çin ve Türk kültürü farklılıklar gösterir.

**yargılarından hangilerine ulaşılabilir?**

- A) I ve II                      B) I ve III                      C) II ve III                      D) I, II ve III

10. Aşağıdaki haritada Türklerin tarih sahnesinde ilk görüldükleri yer olan Orta Asya'dan göç yolları verilmiştir.



Türklerin Orta Asya'dan Göç Yolları

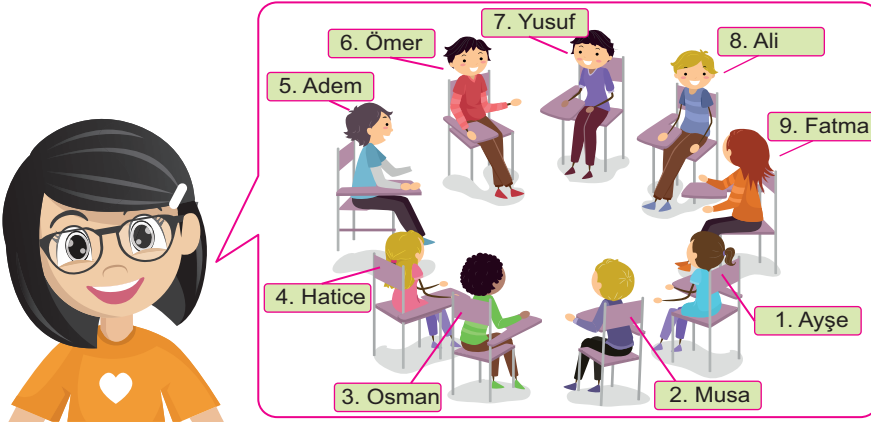
**Verilen haritadan hareketle aşağıdaki yargılardan hangisi ulaşılabilir?**

- A) Türklerin ana yurdu Orta Asya'dır.
- B) Türkler geniş bir coğrafyaya yayılmıştır.
- C) Atın evcilleştirilmesi Türklerin göçlerini kolaylaştırmıştır.
- D) Batıya doğru göçler Hazar Denizi'nin güneyi ve kuzeyinden yapılmıştır.

## DİN KÜLTÜRÜ VE AHLÂK BİLGİSİ

1. Bu testte 10 soru vardır.
2. Cevaplarınızı, cevap kağıdına işaretleyiniz.

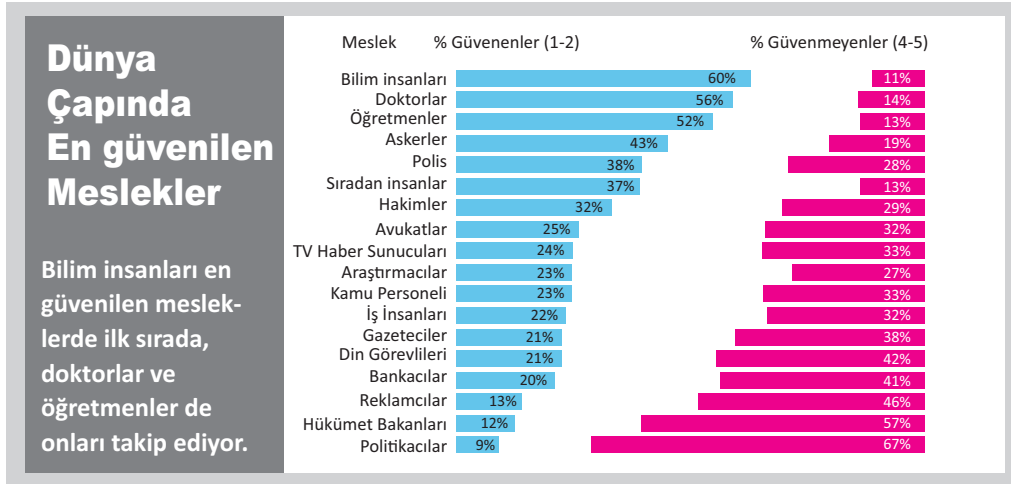
1. Zehra, Kur'an-ı Kerim'de adı geçen bazı peygamberlerin isimlerini sınıftaki arkadaşlarının isimleri ile kodlamıştır.



Buna göre Zehra'nın arkadaşlarından hangilerinin isimleri peygamber isimleriyle aynıdır?

- A) 1 – 3 – 8      B) 2 – 5 – 7      C) 4 – 6 – 9      D) 7 – 8 – 9

- 2.



Bir araştırma şirketi Türkiye dâhil 23 ülkede en güvenilen meslekleri araştırmıştır. Yapılan araştırmanın sonuçları yukarıdaki grafikte yer verilmiştir.

Yapılan araştırmada ön plana çıkan kavram ile aşağıdaki peygamber niteliklerinden hangisiyle ilişkilendirilebilir?

- A) Tebliğ      B) İsmet      C) Fetanet      D) Emanet

3. Dağ başında koyunlarını otlatan bir çoban, birkaç defa köylülere "Yetişin! Kurtlar, koyunlara saldırdı." diye seslenmiş. Köylüler, onun yanına vardıklarında: Çoban kahkaha atarak, "Ben şaka yaptım." diyerek, köylüleri geri çevirmişti. Daha sonra gerçekten kurtlar, koyun sürüsüne saldırdılar, çoban ise; eskisi gibi bağırırdı ve köylülerden yardım istedi. Fakat köylüler, ona güvenmedikleri ve inanmadıkları için kimse onun yardımına koşmadı. Sonra köylüler, kurtların hem bazı koyunları, hem de çobanı yaraladıklarını öğrendiler. İşte bu çoban doğru konuşmadığı için hem köylülerin malını, hem de kendi canını yalanının bedeli olarak ödemek zorunda kalmıştır.

**Verilen hikâyede çobanın dikkate almadığı hadis-i şerif aşağıdakilerden hangisidir?**

- A) "Yalanı ve yalana göre hareket etmeyi terk etmeyenin yemeyi içmeyi bırakmasına Allah'ın ihtiyacı yoktur!"  
 B) "İki kişinin arasını düzelteren, hayır söyleyip, hayır tebliğ eden kimse yalancı değildir."  
 C) "Şakadan bile olsa yalan söylemeyen kimseye cennetin ortasında bir köşk verileceğine kefilim."  
 D) "Mümin, her hataya düşebilir, ama hainlik yapamaz ve yalan söyleyemez."

4.

Mekke'nin fethinden sonra Peygamberimiz Mekkelilere,

– Ey Mekkeliler! Bugün sizlere ne yapacağımı sanıyorsunuz? diye seslendi.

Onlar:

– Bizler senin bize iyilikle muamele edeceğini umuyoruz. Çünkü sen kerem ve iyilik sahibi bir insansın, diye karşılık verdiler.

Bunun üzerine Allah Resulü şöyle buyurdu:

– Bugün benimle sizin hâliniz, Yusuf ve kardeşlerinin hâli gibidir. Ben de size Yusuf'un dediğini diyeceğim: "Bugün sizi kınamak yok, Allah sizi affetsin! O, merhametlilerin en merhametlisidir." (Yusuf suresi, 92. ayet)

**Verilen örnek olay da Hz. Muhammed (s.a.v.) ve Hz. Yusuf'un (a. s.) örnek alınması gereken ortak özelliği aşağıdakilerden hangisidir?**

- A) Cesaretli olmaları  
 B) Kararlı olmaları  
 C) Hoşgörülü olmaları  
 D) Adaletli olmaları

5. Ormanda yürüyüşe çıktınız ancak bir süre sonra yönünüzü kaybettiniz. Böyle bir durumda ne yapmalıyız peki?



Pusulayla en doğru ve güvenilir bir şekilde yönümüzü bulabiliriz. Düz bir yere konulan pusulanın ibresindeki renkli uç daima kuzeyi gösterir.



Eğer yanınızda bir pusulanız yoksa ağaçların yosun tutmuş kısımlarına bakabilirsiniz. Ağaçların yosun tutan tarafları da daima kuzey yönünü gösterir.



Eğer ormanda değil de manevi anlamda yolunuzu kaybederseniz bu kez Kur'an-ı Kerim'e bakın. Yüce Allah insana sorumluluklarını hatırlatmak; ona iyiyi, güzeli ve doğruyu göstermek için tarih boyunca peygamberler aracılığıyla vahiy göndermiştir.

**Yukarıda verilen benzetme ile anlatılmak istenen aşağıdakilerden hangisidir?**

- A) Vahiy insanlar için yol göstericidir. B) Vahiy insana bilmediklerini öğretir.  
C) Vahiy insan için rahmettir. D) Vahiy insanı kötü davranışlardan uzaklaştırır.

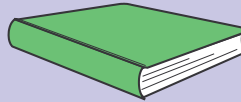
6.



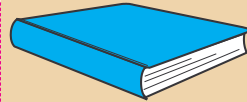
Ben Hz. Musa'ya (a.s.) indirilen, Yahudilere gönderilen kutsal kitabım, diğer adı Tora'dır. En önemli özelliğim ise ilk kutsal kitap olmamdır.



Ben Hz. İsa'ya (a.s.) indirildim. Hristiyanlar için önemli bir yer tutarım. Dört bölümüm var benim, Ahd-i Cedid (Yeni sözleşme) özelliği taşıyırım.



Ben İslam'ı temsil ederim, Hz. Muhammed'in (s.a.v.) gözbebeğiyim, içimdeki tüm hükümler kıyamete kadar devam edecek, Tora'nın aksine son kutsal kitabım.



Ben Yahudilerin ikinci kutsal kitabıyım, içimde ilahiler, yakarılar ve ahlaki öğütler taşıyırım, son kitap hariç benden önceki ve benden sonraki kitaplarla bugüne kadar korunamadım.

**Konuşurma tekniği ile tanıtılan kutsal kitaplarla ilgili aşağıdakilerden hangisi kesinlikle doğrudur?**

- A) Kırmızı renkli kitap İncil'dir. B) Turuncu renkli kitap Zebur'dur.  
C) Yeşil renkli kitap Kur'an-ı Kerim'dir. D) Mavi renkli kitap Tevrat'tır.

7. Kerem, Hz. Adem'in (a. s.) hayatıyla ilgili bir sunum hazırlamıştır.

Hız. Adem (a.s) eşi Hz. Havva ile cennetten çıkarıldıktan sonra Allah'ın (c.c) merhametine sığınarak tövbe etmişler ve bağışlanma dilemişlerdir.

1. Slayt

Hız. Adem'in (a.s) üstün bir varlık olarak yaratılmasından dolayı Allah (c.c), tüm meleklerle ve İblis'e Hz. Adem'e (a.s) saygı göstergesi olarak secde etmelerini emretti.

2. Slayt

Hız. Adem (a.s) ve eşi Hz. Havva cennete yerleştirildi ve cennette yaşamalarına Allah (c.c) tarafından izin verildi.

3. Slayt

Hız. Adem'e (a.s) kendi eşinden başka hiçbir kimse iman etmemiştir.

4. Slayt

**Kerem'in sunumunun tamamının doğru kabul edilebilmesi için kaç numaralı slaytın çıkarılması gerekmektedir?**

A) 1. Slayt

B) 2. Slayt

C) 3. Slayt

D) 4. Slayt

8. Verilen görseldeki mekanizmadan anlamlı bir kelime oluşturmak için A ve L arasında bulunan harfleri A harfinden itibaren kaçınıcı sıradalarsa o sayı kadar mekanizmayı sağa ve sola hareket ettirerek sırayla harfleri okun üstüne getirmek yeterlidir.

**NOT:** Gereken harfler A veya L ise A harfi için "tam üst", L harfi için "tam alt" ifadesi kullanılır

Örneğin; "HAKİM" kelimesini oluşturmak için "sağ 9 / tam üst / sağ 13 / sağ 11 / sol 14" şeklinde mekanizmayı hareket ettirmek yeterlidir.

- Sözlükte; ibadet, itaat, boyun eğme, dua etme gibi anlamlara gelir.

Allah'tan (c.c) yardım dilemek ve O'na sığınmak için bu duaları okuruz.

- İki güzel duadan oluşur.

- İçerisinde tövbe ifadeleri kullanılarak Allah'tan (c.c) bağışlanma dilenir, sadece Allah'a (c.c) kuluk edildiğinden bahsedilir.

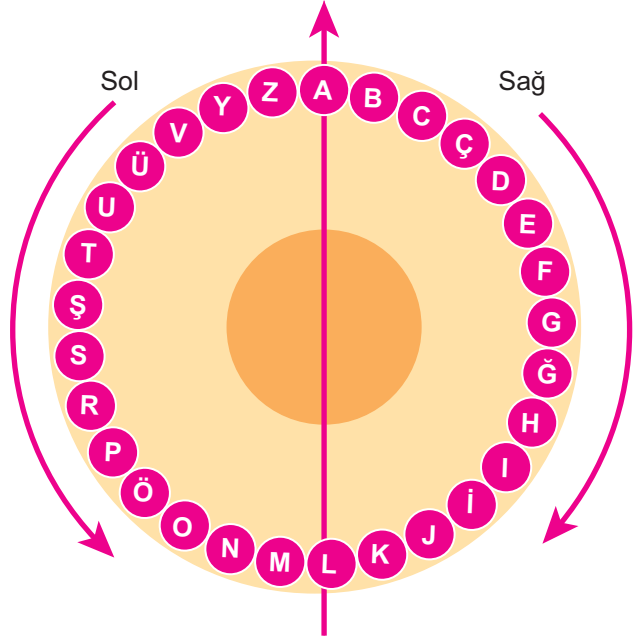
**Bilgileri verilen duanın ismini doğru bulmak için yukarıdaki mekanizmayı hangi yönlerde hareket ettirmek gerekir?**

A) sağa 13 / sola 5 / sola 14 / sola 5 / sola 6

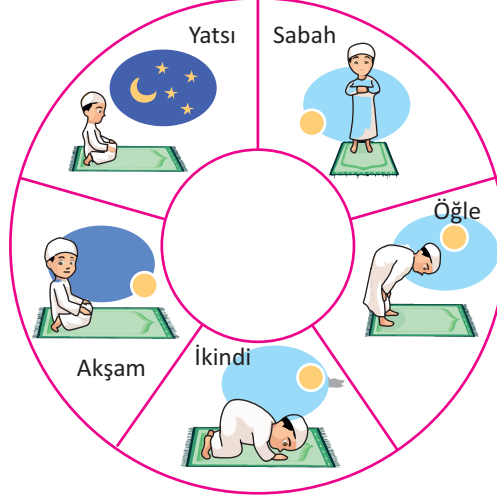
B) sola 13 / sağa 5 / sola 13 / sola 5 / sola 6

C) sağa 13 / sola 5 / sola 14 / sola 6 / sola 5

D) sola 13 / sağa 5 / sola 13 / sola 6 / sola 5



9. Melek aşağıdaki çarkı proje ödevi için hazırlamıştır. Daha sonra öğretmeni çarkın altına konuyla ilgili bir ayet yerleştirirse çok daha güzel olabileceğini söylemiştir.



**Buna göre Melek'in aşağıdaki ayetlerden hangisini yazması gerekmektedir?**

- A) "Ey inananlar, sabır ve namazla (Allah'tan) yardım isteyin. Muhakkak ki Allah, sabredenlerle beraberdir." (Bakara suresi, 153. ayet)
- B) "...Namazı dosdoğru kılın; çünkü namaz müminler üzerine vakitleri belli bir farzdır." (Nisâ suresi, 103. ayet)
- C) "Namazı kılın, zekâtı verin, Peygambere itaat edin ki merhamet göresiniz." (Nûr suresi, 56. ayet)
- D) "...Namazı kılın, zekâtı verin ve Allah'a sınımsız sarılın. O, sizin Mevla'nızdır. Ne güzel Mevla'dır, ne güzel yardımcıdır!" (Hac suresi, 78. ayet)
10. Günde beş vakit namaz kılmaya çalışan Yasin, namaz vakitlerini kaçırmamak için aşağıdaki uygulaması telefonuna indirmiştir.

**İSTANBUL 11 NİSAN CUMARTESİ**  
18 Şubat 1441

**Akşam vaktine kalan süre :**

Saat dak sn  
00 : 15 : 53

**Şu anda İKİNDİ VAKTİ (KERAHAT)**

İMSAK 04:53	GÜNEŞ 06:23	ÖĞLE 13:09	İKİNDİ 16:49	AKŞAM 19:45	YATSI 21:09
----------------	----------------	---------------	-----------------	----------------	----------------

**Buna göre Yasin'in 15 dakika 53 saniye sonra öncelikli olarak kılması gereken namazın hükmü aşağıdakilerden hangisidir?**


- A) Farz Namaz      B) Nafile Namaz      C) Mekruh Namaz      D) Vacip Namaz

## İNGİLİZCE


1. Bu testte 10 soru vardır.
2. Cevaplarınızı, cevap kağıdına işaretleyiniz.

1. Read the speech bubbles below.

I ride a scooter with my friends.



Nick




Adam


I study for my exams in the library.

After-School Activities

I do my homework at home.



Jack



Ed

I search for information for my project on the Net.

Who has fun during the after-school activities?

- A) Jack                      B) Ed                      C) Nick                      D) Adam

2. Read the speech bubbles below. Who gets up late in the morning?

A)  I am very lucky because my school starts at 11 o'clock in the morning and I always get up at 10.15 a.m.

C)  My school starts at 8.30 a.m. so I leave home at about 8 o'clock every morning. I get up about 7.30 a.m.

B)  I always get up at 7 o'clock and go jogging in the park before I get ready for school. I feel energetic when I get up early.

D)  My school starts at 8.15 a.m. so I need to get up at 7.15 a.m. I leave home at 7.30 a.m. every morning.



3. Read the dialogue and answer the question.

**Steve:** Is your birthday on the thirteenth of September isn't it, Mia?

**Mia:** No, it isn't. It's on the fifteenth of September.

**Steve:** Oh, ok. I got the dates mixed up.

**Mia:** It's not problem.

**Which date is mentioned in the conversation above?**

- A) 15<sup>th</sup> September      B) 14<sup>th</sup> September  
C) 5<sup>th</sup> September      D) 30<sup>th</sup> September

4. Read the conversation and answer the question.

**Ashley:** Micheal, can I ask you some questions? I have school project about daily routines.

**Micheal:** Of course, you can.

**Ashley:** Let's start. ---?

**Micheal:** Yes, my school starts at 9 o'clock so I get up early on weekdays.

**Ashley:** ---?

**Micheal:** I like doing sport activities. I join basketball club at the weekend.

**Ashley:** ---?

**Micheal:** Yes, I usually have a lot of work to do on weekdays. I can rest only at weekends.


**Which question does Ashley NOT ask Micheal?**

- A) What kind of activities do you like doing  
B) Do you hang out with your friends  
C) Are you usually busy on weekdays  
D) Do you get up early in the morning

5. Peter and Lucy want to attend an after-school club together. Here are the lists of their interests.



**Choose the club that Lucy and Peter can enjoy attending together.**

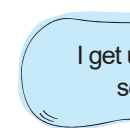


6. Read the speech bubbles and answer the question.



Mary

My school starts at nine o'clock in the morning.



Nick

I get up at half past seven a.m.



Olivia

I meet my friends at quarter past five a.m.



James

I go to bed at quarter to nine p.m.

**Which of the following is NOT in the speech bubbles above?**

- A) 16.45      B) 20.45  
C) 09.00      D) 07.30

7. Read the paragraph and complete the sentence.



Hello, I'm Lila. I go to Kensington Middle School in London. I always get up early every morning. I get dressed and have breakfast. My dad picks me up to school because he's a teacher in my school. He is a Maths teacher, but I dislike Maths. My favourite subject is P.E. I'm good at volleyball. I have six classes a day. I leave school at half past four and I arrive home at five o'clock.

In the paragraph, there is No information about Lila's - - - .

- A) daily routines      B) parents      C) relatives      D) school

8. Read the text and answer the question.

Every morning, Ben wakes up early, he washes his face and gets dressed for school. Then he has breakfast. He goes to school at quarter to eight a.m. I attend the school's writing club twice a week.

Which picture is NOT related to the text above?

A)



B)



C)



D)



Answer questions 9 and 10 according to the text below.



Hello! I'm Jane. I always get up early on weekdays. I wash my face and brush my teeth. I always have breakfast in the morning. I get dressed for school and I leave home at 8.00 a.m. I get on the school bus at 8.10 a.m. I always have lunch at school. I go to piano course on Tuesdays. On Fridays, I have dance course. I learn folk dances. I do my homework before dinner. I have dinner with my family at 7 o'clock. I help my mother with setting the table. After dinner, I read a book and play computer games. At weekends, I take art course in the afternoon and I watch a movie in the evenings. My sister Nancy never watches movies because she thinks it's boring. She always reads a book on weekdays and draws a picture at weekends. We sometimes play in the playground together at weekends.

9. Which of the following is NOT correct about Jane according to the text?

- A) She gets up early on weekdays.
- B) She goes to piano course once a week.
- C) She goes to school by bus.
- D) Her sister likes watching movies.

10. Which of the following can be the best title for the text?

- A) My Favourite Activities
- B) My Weekly Routine
- C) My Sister and I
- D) A Busy Day of My Sister

## MATEMATİK

1. Bu teste 15 soru vardır.
2. Cevaplarınızı, cevap kağıdına işaretleyiniz.

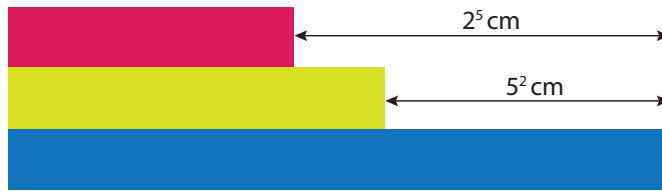
1. Aşağıda bir yapı markette satılan üç ürünün etiket fiyatı gösterilmiştir.



Bahadır etiket fiyatı verilen ürünlerin her birinden en az bir tane olmak üzere toplam dört ürün alıyor. **Buna göre Bahadır aldığı ürünler için toplam kaç lira ödeme yapmış olabilir?**

- A) 32                      B) 49                      C) 57                      D) 66

- 2.



Ali uzunlukları toplamı 63 cm olan kırmızı, sarı ve mavi renkli üç çitayı sol tarafları aynı hizada olacak şekilde yerleştirdiğinde sağ tarafta oluşan uzunluk farkları yukarıda gösterildiği gibi oluyor.

**Buna göre mavi renkli çitanın uzunluğu kaç santimetredir?**

- A) 32                      B) 40                      C) 42                      D) 45